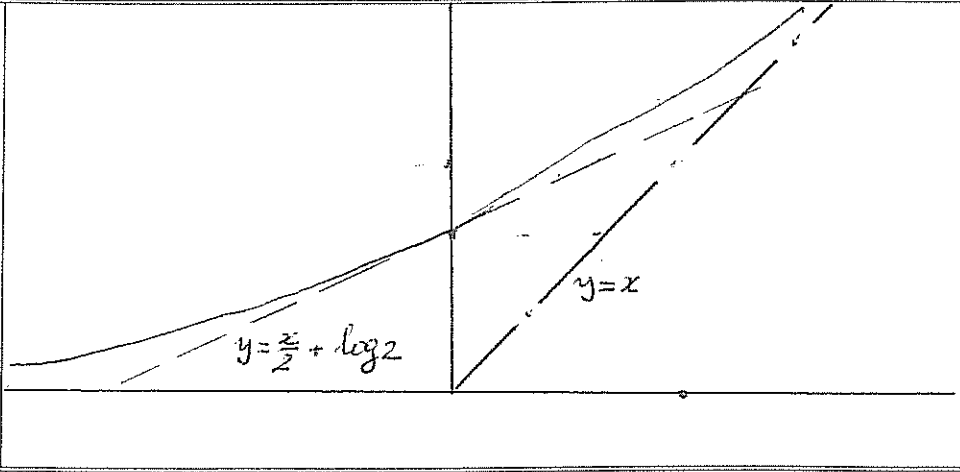


Matematica e Statistica, Anno Accademico 2008-2009,
 Scienze Ecologiche e della Biodiversità
 Jimmy A. Mauro, Vincenzo M. Tortorelli
 X appello : 12 Aprile 2010

COGNOME		N. MATRICOLA	
NOME		ANNO ISCR.	

ISTRUZIONI al fine della valutazione:

- compilare l'intestazione in stampatello maiuscolo
- riportare con ordine lo svolgimento della soluzione agli esercizi contrassegnati da e;
- scrivere, nello spazio apposito all'interno della tabella sottostante, solo la risposta agli altri;
- il tutto sul presente foglio, l'unico che deve essere consegnato.

1	$2 < x < \frac{5}{8}\pi$	2	$N_9 \geq 105$
3	126	4	$2\sqrt{5}$
5			
6a	$1 + t + t^2 + \dots + t^n$	6b	$x + x^2 + x^3$

ESERCIZIO n. 1 Risolvere $\sin x > \frac{1}{2}$, $2 < x < 3$.

ESERCIZIO n. 2 Sono presenti 14 varianti fenotipiche dipendenti esclusivamente da un certo gene. Quanti almeno devono essere i genotipi in ipotesi di dominanza nelle coppie alleliche?

ESERCIZIO n. 3 Quanti sono i cammini, sui lati delle caselle quadrate di una scacchiera 5X4, di lunghezza minima che congiungono due vertici opposti? (si pensi un cammino come una sequenza di istruzioni: A=in alto, B=in basso, D=a destra, S =a sinistra, e si individui quali "parole" scritte con queste lettere indicano i cammini di lunghezza minima ...)

ESERCIZIO n. 4 Si calcoli l'area del triangolo con vertici (1, 1, 1), (2, 3, 4), (4, 3, 2).

ESERCIZIO n.5 Si tracci approssimativamente il grafico di $\log(1 + e^x)$.

ESERCIZIO n. 6 a- Si scriva il polinomio di Taylor centrato in $t = 0$ di $G(t) = \frac{1}{1-t}$.
b- Si calcoli il polinomio di Taylor centrato in $x = 0$ di grado 3 di $f(x) = \frac{x}{1-\sin x}$.

• ESERCIZIO n. 7 Trovare la soluzione di: $x''(t) - 6x'(t) + 9x(t) = e^{3t}$, $x(0) = 1$, $x'(0) = 1$

• ESERCIZIO n.8

a- Si approssimi con una frazione il valore dell'integrale $\int_0^1 \sqrt{t} \sin \sqrt{t} dt$ a meno di $\frac{1}{100}$. (Si usi lo sviluppo di Taylor in modo opportuno.)
b- Si calcoli la primitiva di $\sqrt{t} \sin \sqrt{t}$.

• ESERCIZIO n. 9 Nell'arco di un anno accademico il 30% degli studenti ha seguito il corso e *se provano l'esame in un appello* hanno probabilità del 90% di essere promossi in quell'occasione. Gli studenti che non hanno seguito il corso vedono diminuita questa possibilità al 30%.

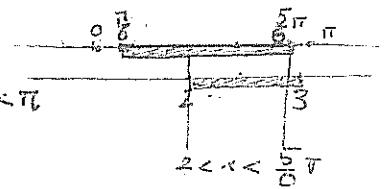
a- Con che probabilità un qualsiasi studente supera l'esame in un appello in cui si presenta?
b- Qual'è il numero medio di appelli a cui si deve presentare uno studente che ha seguito il corso per superare l'esame?
c- Qual'è il numero medio di appelli a cui si deve presentare uno studente che non ha seguito il corso per superare l'esame?

$$1 \quad \begin{cases} \sin x > \frac{1}{2} \\ 2 < x < 3 \end{cases}$$



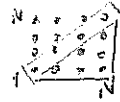
$$\begin{cases} \frac{\pi}{6} + 2k\pi < x < \frac{5\pi}{6} + 2k\pi \\ 2 < x < 3 \end{cases}$$

$$0 < \frac{\pi}{6} < 2 < \frac{5\pi}{6} < 3 < \pi$$



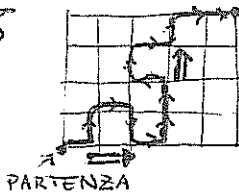
2. N numero alleli = numero omozigoti > numero fenotipi = 14

numero omozigoti $\frac{N^2 - N}{2}$



numero genotipi = $N + \frac{N^2 - N}{2} = \frac{N(N+1)}{2} > \frac{14 \cdot 15}{2} = 105$

3



I cammini di lunghezza minima, con i punti di partenza e arrivo indicati, possono solo essere specificati dalle istruzioni ALTO, SINISTRA

Il cammino evidenziato SASSAASASS è più lungo di quello ottenuto sostituendo le frecce doppie: S S S A A A S S

Necessariamente ci si deve muovere di cinque a sinistra e quattro in alto. Quindi i cammini di lunghezza minima devono avere 4 A e 5 S: sono tanti quanti gli anagrammi di A A A A S S S S S

$$\frac{9!}{5!4!} = \frac{9 \cdot 8 \cdot 7 \cdot 6}{4 \cdot 3 \cdot 2} = 9 \cdot 7 \cdot 2 = 9 \cdot 14 = 126$$

4. Area triangolo vertici (111)(234)(432) = Area triangolo vertici (000)(123)(321)

$$= \frac{1}{2} \text{ prodotto lunghezze 2 lati} \cdot |\sin \text{angolo compreso}| =$$

$$= \frac{1}{2} \sqrt{1+4+9} \sqrt{9+4+1} \cdot \sqrt{1 - (\cos \text{angolo compreso})^2} =$$

$$= \frac{14}{2} \cdot \sqrt{1 - \left(\frac{(1,2,3) \cdot (3,2,1)}{14}\right)^2} = 7 \sqrt{1 - \left(\frac{3+4+3}{14}\right)^2} =$$

$$= \frac{7}{14} \sqrt{(14)^2 - 100} = \frac{7}{14} \sqrt{96} = \sqrt{6} = 2\sqrt{3}$$

oppure

$$\text{Area triangolo vertici (000)(123)(321)} =$$

1	3	13	13	
2	2	22	3	22
3	1		31	31

$$= \frac{1}{2} \sqrt{(\det \begin{pmatrix} 1 & 3 \\ 2 & 2 \end{pmatrix})^2 + (\det \begin{pmatrix} 13 & 13 \\ 3 & 1 \end{pmatrix})^2 + (\det \begin{pmatrix} 22 & 22 \\ 3 & 1 \end{pmatrix})^2} =$$

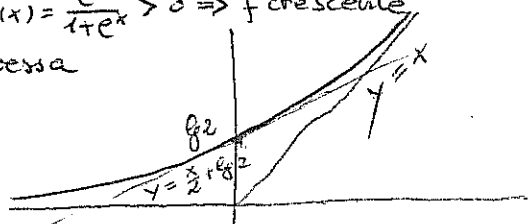
$$= \frac{1}{2} \sqrt{16 + 64 + 16} = \frac{1}{2} \sqrt{96} = 2\sqrt{3}$$

5. $f(x) \geq 0$, $\lim_{x \rightarrow +\infty} f(x) = +\infty$, $\lim_{x \rightarrow -\infty} f(x) = -\infty$ $f'(x) = \frac{e^x}{1+e^x} > 0 \Rightarrow f$ crescente

$$f'(x) = 1 - \frac{1}{1+e^x} \text{ crescente} \Rightarrow f \text{ concava}$$

$$f(x) = \lg(1+e^x) > \lg(e^x) = x$$

$$f(x) - x = \lg\left(\frac{1}{e^x} + 1\right) \xrightarrow{x \rightarrow +\infty} 0$$



6

$$a \quad G_1(t) = \frac{1}{1-t} \quad (\text{for } |t| < 1) = \lim_{n \rightarrow \infty} 1 + t + \dots + t^n = \sum_{k=0}^{\infty} t^k$$

$$G_1(t) = 1 + t + \dots + t^n + \sum_{k=n+1}^{\infty} t^k = 1 + \dots + t^n + t^{n+1} \sum_{k=0}^{\infty} t^k =$$

$$= 1 + t + \dots + t^n + \frac{t^{n+1}}{1-t} = 1 + \dots + t^n + O(t^{n+1})$$

$$1 + \dots + t^n$$

b

$$f(x) = x(1 - \sin x)^{-1} = x \left(\frac{1}{1 - \sin x} \right) = [\sin x = t]$$

$$= x(1 + \sin x + \sin^2 x + O(\sin^3 x)) = [\sin x = x + O(x^3)]$$

$$= x(1 + x + O(x^3) + x^2 + O(x^4) + O(x^3)) =$$

$$= x(1 + x + x^2 + O(x^3)) =$$

$$= x + x^2 + x^3 + O(x^4)$$

$$x + x^2 + x^3$$

$$7 \quad \begin{cases} x''(t) - 6x'(t) + 9x(t) = e^{3t} \\ x(0) = 1 \\ x'(0) = 1 \end{cases}$$

• soluzioni omogenee $y''(t) - 6y'(t) + 9y(t) = 0$

RADICI POLINOMIO CARATTERISTICO $\lambda^2 - 6\lambda + 9 = 0$ $\lambda \in \frac{6 \pm \sqrt{36 - 36}}{2} = 3$

$$y(t) = ae^{3t} + bte^{3t} = (a + bt)e^{3t}$$

• soluzione particolare omogenea

essendo il termine noto del tipo $e^{t \cdot \text{radice pol. caract.}}$

si cerca una soluzione particolare del tipo

$$(a + bt + \gamma t^2)e^{3t}, \text{ cioè, essendo } (a + bt)e^{3t}$$

soluzioni dell'omogenea, basta trovare una

soluzione particolare del tipo

$$z(t) = \gamma t^2 e^{3t}$$

si impone che sia soluzione, $z'(t) = 2\gamma t e^{3t} + 3\gamma t^2 e^{3t}$
 $z''(t) = 2\gamma e^{3t} + 6\gamma t e^{3t} + 6\gamma t e^{3t} + 9\gamma t^2 e^{3t}$

$$\frac{9\gamma t^2 e^{3t} + 12\gamma t e^{3t} + 2\gamma e^{3t}}{z''} - \frac{12\gamma t e^{3t} + 18\gamma t^2 e^{3t}}{-6z'} + \frac{9\gamma t^2 e^{3t}}{9z} = e^{3t}$$

rimane la condizione $2\gamma e^{3t} = e^{3t}$ cioè $\gamma = \frac{1}{2}$

• Le soluzioni dell'equazione sono quindi $(a + bt + \frac{t^2}{2})e^{3t} = x(t)$

$$x'(t) = (b + t)e^{3t} + 3(a + bt + \frac{t^2}{2})e^{3t}$$

imponendo le condizioni: $x(0) = a = 1$

$$\text{e } x'(0) = b + 3a = 1$$

si ottiene $a = 1$ e $b = -2$.

La soluzione è quindi $(1 - 2t + \frac{t^2}{2})e^{3t}$

8

$$a: \int_0^1 \sqrt{t} \sin \sqrt{t} dt = \frac{m}{n} + \frac{1}{100} \quad 3! = 6 \quad 5! = 6 \cdot 4 \cdot 3 = 120$$

$$\sin \sqrt{t} = \sqrt{t} - \frac{(\sqrt{t})^3}{3!} + \frac{(\sqrt{t})^5}{5!} \cos \theta = \sqrt{t} - \frac{(\sqrt{t})^3}{6} \pm \frac{1}{120} \quad (0 \leq t, \cos \theta \leq 1)$$

$$\sqrt{t} - \frac{(\sqrt{t})^3}{6} - \frac{1}{120} \leq \sin \sqrt{t} \leq \sqrt{t} - \frac{(\sqrt{t})^3}{6} + \frac{1}{120}$$

$$t - \frac{t^2}{6} - \frac{1}{120} \leq \sqrt{t} - \frac{t^2}{6} - \frac{1}{120} \leq \sqrt{t} \sin \sqrt{t} \leq t - \frac{t^2}{6} + \frac{1}{120} \leq t - \frac{t^2}{6} + \frac{1}{120} \quad (\cos t \leq 1)$$

$$\int_0^1 (t - \frac{t^2}{6} - \frac{1}{120}) dt \leq \int_0^1 \sqrt{t} \sin \sqrt{t} dt \leq \int_0^1 (t - \frac{t^2}{6} + \frac{1}{120}) dt$$

$$\int_0^1 t dt - \int_0^1 \frac{t^2}{6} dt - \int_0^1 \frac{1}{120} dt$$

$$\int_0^1 t dt - \int_0^1 \frac{t^2}{6} dt + \int_0^1 \frac{1}{120} dt$$

$$\frac{1}{2} - \frac{1}{18} - \frac{1}{120}$$

$$\frac{1}{2} - \frac{1}{18} + \frac{1}{120}$$

$$\frac{4}{9} - \frac{1}{120} \leq \int_0^1 \sqrt{t} \sin \sqrt{t} dt \leq \frac{4}{9} + \frac{1}{120}$$

b

$$\sqrt{t} = x \quad \frac{1}{2\sqrt{t}} = \frac{dx}{dt}$$

$$\sqrt{t} \sin \sqrt{t} = 2x^2 \sin x \frac{dx}{dt}$$

$$\sqrt{t} \sqrt{t} \sin \sqrt{t} \cdot \frac{1}{\sqrt{t}}$$

una primitiva di $\sqrt{t} \sin \sqrt{t}$ è una primitiva di

$2x^2 \sin x$ calcolata in $x = \sqrt{t}$

$$\int 2x^2 \sin x dx = 2 \int x^2 \sin x dx = 2 \left(x^2 (-\cos x) - \int 2x (-\cos x) dx \right) =$$

$$= 2 \left(-x^2 \cos x + 2 \int x \cos x dx \right) = 2 \left(-x^2 \cos x + 2 \left(x \sin x - \int 1 \cdot \sin x \right) \right) =$$

$$= 2 \left(-x^2 \cos x + 2(x \sin x - (-\cos x)) \right) + C =$$

$$= 2 \left(-x^2 \cos x + 2x \sin x + 2 \cos x \right) + C = 4x \sin x + 4 \cos x - 2x^2 \cos x + C$$

$$[\text{verifica } (4x \sin x + 4 \cos x - 2x^2 \cos x)' = 4 \sin x + 4 \cos x - 4x \cos x - 4x \cos x + 2x^2 \sin x]$$

La primitiva è quindi $4\sqrt{t} \sin \sqrt{t} + 4 \cos \sqrt{t} - 2t \cos \sqrt{t} + c$.

$$g) \quad P = \begin{cases} 1 & \text{PROFESSO} \\ 0 & \text{NON PROFESSO} \end{cases} \quad S = \begin{cases} 1 & \text{CORSO SEQUITO} \\ 0 & \text{CORSO NON SEQUITO} \end{cases}$$

$$a) \quad P(P=1/S=1) = 90\% \quad P(P=1/S=0) = 30\%$$

$$P(P=1) = P(P=1/S=1) P(S=1) + P(P=1/S=0) P(S=0) \\ = 90\% \cdot 30\% + 30\% \cdot 70\% = 48\% = \frac{12}{25}$$

b) N sia la variabile aleatoria discreta il numero di tentativi che uno studente eccaso fa per passare.

P_1, P_2, \dots siano le variabili a valori 0, 1 dei vari tentativi d'esame e siano indipendenti.

$$P(N=k/S=1) = P(P_1=0 \text{ e } P_2=0 \text{ e } \dots \text{ e } P_{k-1}=0 \text{ e } P_k=1/S=1) = \\ = P(P_1=0/S=1) \cdot P(P_2=0/S=1) \dots P(P_{k-1}=0/S=1) \cdot P(P_k=1/S=1) \\ = \left(1 - \frac{9}{10}\right)^{k-1} \frac{9}{10}$$

$\langle N \rangle$ per studente che ha seguito =

$$= \sum_{k=1}^{\infty} k P(N=k/S=1) = \sum_{k=1}^{\infty} k \frac{9}{10} \frac{1}{10^{k-1}} = \\ = \frac{9}{10} \cdot \sum_{k=1}^{\infty} k \left(\frac{1}{10}\right)^{k-1}$$

ora $\sum_{k=1}^{\infty} k x^{k-1}$ è la derivata di $\sum_{k=0}^{\infty} x^k = \frac{1}{1-x}$, quindi è $\frac{1}{(1-x)^2}$ per cui

$$\langle N/S=1 \rangle = \frac{9}{10} \cdot \frac{1}{\left(1 - \frac{1}{10}\right)^2} = \frac{10}{9}$$

c) del tutto analogo solo che si usano le probabilità $P(P=0/S=0) = 1 - \frac{3}{10}$ $P(P=1/S=0) = \frac{3}{10}$ ottenendo $\langle N/S=0 \rangle = \frac{10}{3} \approx 3$